

Aluno(a) ●●●

Professor(a)
Meura

Ano
5°

Data
25/05/17

ATIVIDADE DE MATEMÁTICA – II BIMESTRE - PLANTÃO

1- Escreva os 10 menores múltiplos dos números abaixo e encontre o menor múltiplo comum:

M(2): { _____ }

M(6): { _____ }

M.M.C.(2 e 6): { _____ }

M (5): { _____ }

M (8): { _____ }

M.M.C.(5 e 8): { _____ }

2- Considerando os números 9 e 15, encontre:

a) os divisores de 8 _____

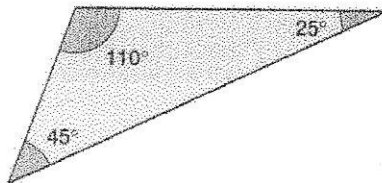
b) os divisores de 12 _____

c) os divisores comuns de 8 e 12: _____

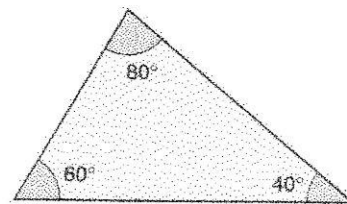
d) MDC (8 e 12): _____

3- **Classifique** os triângulos em retângulo, acutângulo ou obtusângulo.

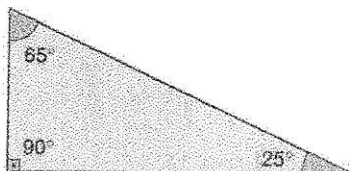
a)



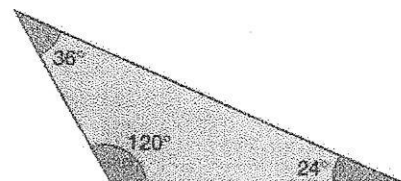
c)



b)



d)



4- Verifique se:

a) 4025 é múltiplo de 5. _____

b) 3000 é múltiplo de 11. _____

c) 4500 é múltiplo de 15. _____

5- Leia atentamente as situações-problema e depois as resolva.

a) Tia Rachel comprou um celular que custou 3 993 reais. Quanto pagaremos se comprarmos 18 celulares iguais a esse?

Cálculos

Resposta

b) Comprei um computador por 15888 reais. Ele foi pago em 16 prestações. Qual foi o valor de cada prestação?

Cálculos

Resposta

c) Num show foram vendidos ingressos a 275 reais. Se compareceram 5680 pessoas, qual foi o valor arrecadado com a venda dos ingressos?

Cálculos

Resposta

Confira sempre cada cálculo feito e respostas registradas.