

Aluno(a) ● ● ●

Professor(a)
MEURA

Ano
4º

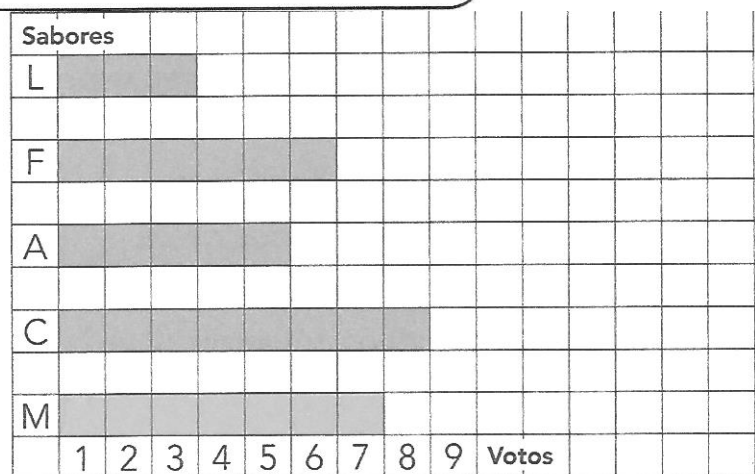
Data

PLANTÃO DE MATEMÁTICA - REVISÃO - I BIMESTRE

1- Observe a tabela e o gráfico abaixo com muita atenção. Depois resolva as atividades propostas. Os dados da pesquisa são sobre uma pesquisa feita pela professora Daniela.

Qual é o seu sabor predileto de sorvete?

Sorvete predileto		
Morango – M	<input checked="" type="checkbox"/> L	
Chocolate – C	<input checked="" type="checkbox"/> L	
Abacaxi – A	<input checked="" type="checkbox"/> L	5
Flocos – F	<input checked="" type="checkbox"/> L	0
Limão – L	<input type="checkbox"/> L	



Alfabetização Matemática – Ápis – Luiz Roberto Dante – 4ºAno – Editora Ática

a) Continue completando a tabela de acordo com os resultados obtidos na pesquisa.

b) O sabor predileto das crianças é _____.

c) Qual foi o sabor menos votado?

d) Quantas crianças a mais preferem o sabor de chocolate em relação ao sabor de limão?

e) Qual foi o total de votantes?

Operação

Resposta

2-Responda às questões a seguir considerando somente os algarismos indo-arábicos das fichas abaixo.

6

5

2

3

a) Qual é o maior número de 4 algarismos que podemos formar?

b) Qual é o menor número de 4 algarismos que podemos formar?

3- No Quadro de Ordens a seguir temos uma quantidade representada. Observe-a e depois responda as questões de acordo com nossos estudos diários

CLASSE DOS MILHÕES			CLASSE DOS MILHARES			CLASSE DAS UNIDADES		
Centena de milhão	Dezena de milhão	Unidade de milhão	Centena de milhar	Dezena de milhar	Unidade de milhar	Centena	Dezena	Unidade
					6	8	4	3

a) O numeral representado no quadro de ordens tem _____ classes e _____ ordens.

b) A ordem de grandeza desse numeral é

c) O nome da 4ª ordem é

d) Esse numeral tem _____ unidades ou cubinhos.


e) De acordo com a ordem que ocupa escreva quantas unidades tem :

6 _____ 8 _____ e 4 _____

f) Para representar esse número podemos usar as seguintes peças do material dourado:

4- Veja os produtos que se encontram à venda numa loja de Goiânia.

a) Mamãe comprou um ventilador e um liquidificador. Quanto ela pagou no total?
Operação



Resposta _____

b) Mamãe pagou a compra feita com 15 notas de 100 reais. Quanto ela recebeu de troco?

Operação

Resposta

c) Quanto ela pagará se comprar 3 ventiladores?

Operação

Resposta

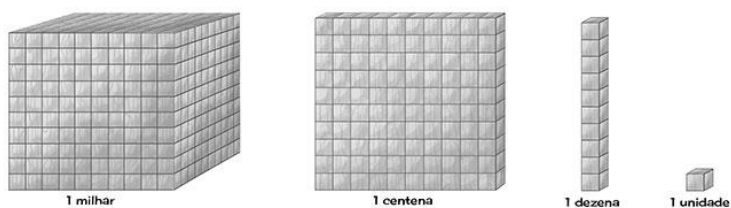
d) Quanto tia Adriana pagará se comprar 2 liquidificadores?

Operação

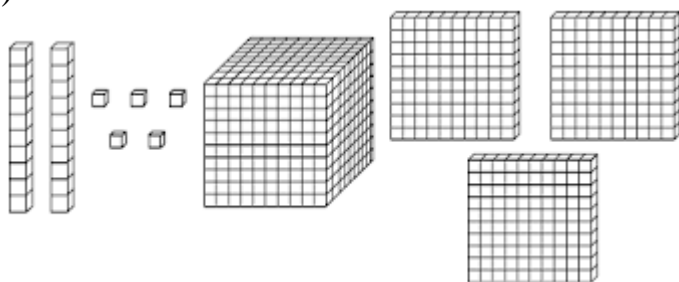
Resposta

5- Registre as quantidades representadas pelo material dourado.

a)



b)



Capriche nas atividades!!