

Aluno(a) ● ● ● _____

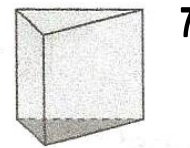
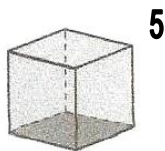

Professor(a) _____
MEURA

Ano _____
5°

Data _____
15/03/18

PLANTÃO DE MATEMÁTICA – I BIMESTRE

1. Observe as figuras geométricas a seguir e RESPONDA:

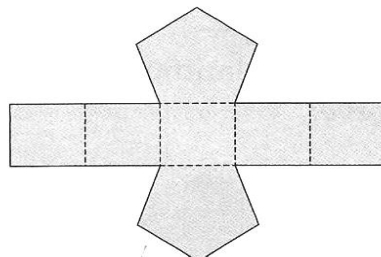

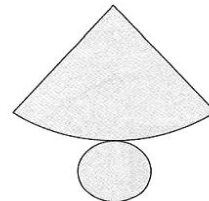
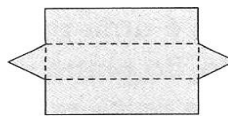
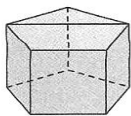


a. Quais são **corpos redondos**? _____

b. Quais são **poliedros**? _____

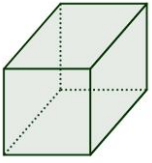
c. O que diferencia os **corpos redondos dos poliedros**?

2. **LIGUE** cada sólido geométrico à sua planificação.

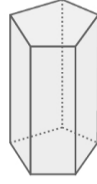


3. **OBSERVANDO** os poliedros abaixo, escreva o que se pede sobre cada um.

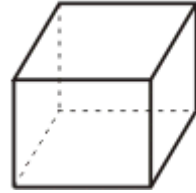
a)



b)



c)



Arestas = _____

Arestas = _____

Arestas= _____

Vértices= _____

Vértices= _____

Vértices= _____

Faces= _____

Faces= _____

Faces= _____

4. **Solucione** as situações-problemas a seguir.

a) Paulo tem **4589** miniaturas e ganhou **1999** miniaturas do seu pai. **Quantas** miniaturas ele tem no **total**?

CÁLCULO:

RESPOSTA:

b) Mariana nasceu no ano de **1986**. Quantos anos Mariana terá no ano de **2018**?

CÁLCULOS:

RESPOSTA:

c) Sérgio comprou um brinquedo que custou **678** reais. **Quanto** ele pagará se comprar uma dúzia desses brinquedos?

CÁLCULOS:	RESPOSTA:
	<hr/> <hr/>

d) Tia Neusa comprou 4568 Kg de alimentos para repartir entre 8 creches. Quantos Kg receberá cada creche?

CÁLCULOS:	RESPOSTA:
	<hr/> <hr/>

Confira sempre os cálculos feitos!