

Aluno(a) ●●●

Professor(a)
MEURA

Ano
4º

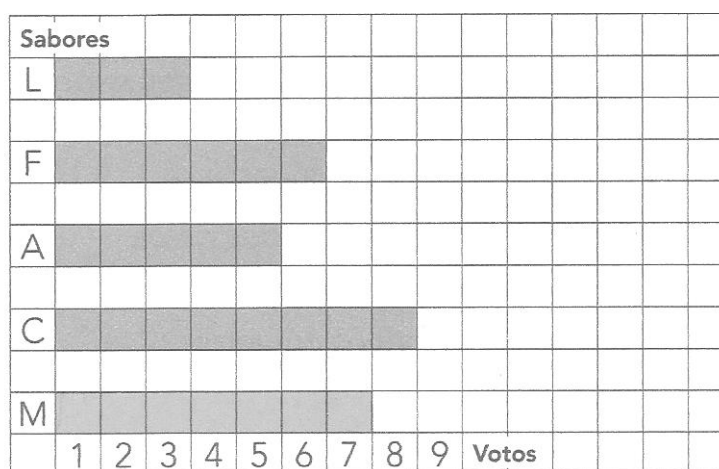
Data
13/06/17

ATIVIDADE DE MATEMÁTICA- II BIMESTRE-PLANTÃO

1- Observe o gráfico a seguir e depois faça o que se pede.

Qual é o seu sabor predileto de sorvete?

Sorvete predileto		
Morango – M	<input checked="" type="checkbox"/> L	7
Chocolate – C	<input checked="" type="checkbox"/> □	8
Abacaxi – A	<input checked="" type="checkbox"/> □	5
Flocos – F	<input checked="" type="checkbox"/>	6
Limão – L	<input type="checkbox"/> □	3



Porta Aberta – Matemática – Marília Centurión – Jínia La Escala – Arnaldo Rodrigues – 4º Ano – ED. FTD

a) Qual é o sorvete preferido nesta pesquisa?

b) Confira a tabela e registre a quantidade de cada sabor.

c) Calcule a quantidade de sabores de sorvete se cada coluna tivesse o triplo. Assim teríamos:

SORVETE PREDILETO	MULTIPLICAÇÃO
MORANGO	
CHOCOLATE	
ABACAXI	
FLOCOS	
LIMÃO	

d) Qual foi o sabor que teve a quantidade de preferência corresponde a $16 : 8$?

e) Quantas pessoas participaram dessa pesquisa?


2- Observe o numeral representado no quadro de ordens e faça o que se pede.

CLASSE DOS MILHÕES			CLASSE DOS MILHARES			CLASSE DAS UNIDADES		
Centena de milhão	Dezena de milhão	Unidade de milhão	Centena de milhar	Dezena de milhar	Unidade de milhar	Centena	Dezena	Unidade
		5	7	9	0	4	2	1

- a) Esse numeral tem ____ classes e ____ ordens.
- b) Sua ordem de grandeza é _____ e tem o valor _____.
- c) Decomponha-o primeiro de acordo com o valor da ordem que ocupa e em seguida de acordo com a ordem.

3- Uma piscina olímpica, onde se realizam competições oficiais de natação, tem 50 m de comprimento por 25 m de largura. Sendo assim, calcule o perímetro de uma piscina olímpica

Operação



Resposta: _____

4- De acordo com as dicas, solucione as situações-problema que envolvem os nomes dos termos.

a) Numa multiplicação o multiplicando corresponde a 348 reais e o multiplicador é 41. Quantos reais têm no produto?

Operação

Resposta

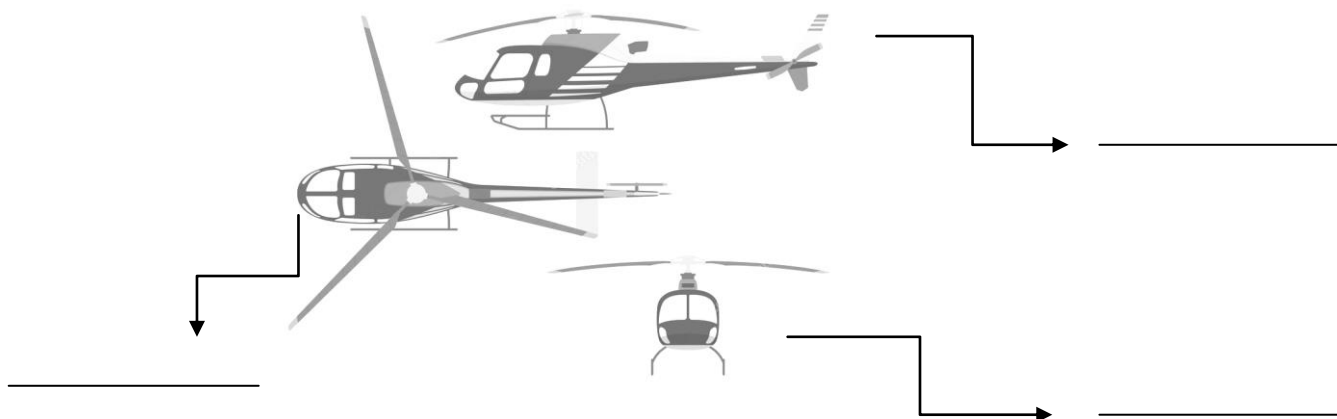
b) Mamãe fez 72 brigadeiros. Serão colocá-los em 8 pratinhos com quantidades iguais. Quantos brigadeiros haverá em cada pratinho?

Operação

Resposta

b.1. Na divisão feita o dividendo é _____, o divisor é _____ e o quociente é _____.

5- Na imagem abaixo, identifique escrevendo os tipos de vistas que estudamos:



6- Arme cada operação, resolva e confira os cálculos feitos.

- a) $2349 + 8905 + 57 =$
- b) $7400 - 3288 =$
- c) $12 \times 15 =$
- d) $45 : 5 =$
- e) $127 : 6 =$
- f) $459 : 9 =$

Confira cada cálculo feito e muito... muito sucesso!