

Aluno(a) ●●●

Professor(a)

Ano
4º

Data
01/08

ATIVIDADE AVALIATIVA DE RECUPERAÇÃO EM MATEMÁTICA

Atividade I - II Bimestre

As atividades valem 2.0 e a avaliação valerá 8.0.
A atividade deverá ser entregue para a professora.

Valor: 1,0
Nota: ____

- 1- Componha os seguintes números e escreva-o no quadro de ordens.
3.000.000 + 700.000 + 4.000 + 800 + 70 + 9

CLASSE DOS MILHÕES			CLASSE DOS MILHARES			CLASSE DAS UNIDADES		
Centena de milhão	Dezena de milhão	Unidade de milhão	Centena de milhar	Dezena de milhar	Unidade de milhar	Centena	Dezena	Unidade

- a) A ordem de grandeza desse número é: _____
- b) Ele tem _____ ordens e _____ classes.
- c) Qual é o nome da classe incompleta? _____
- d) Qual é a ordem que está vazia? _____

2- Arme, efetue e dê nome aos termos:

a- $7.890 + 68.904 + 45 =$

b- $80.532 - 4.781 =$

c- $3.654 \times 23 =$

d- $487 : 6 =$

a)

b)

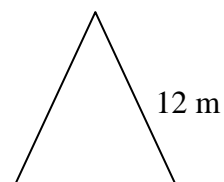

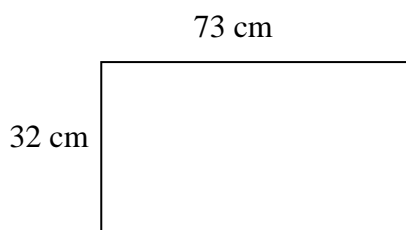
c)

d)

3- Complete o quadro abaixo com a tabuada.

x	1	2	3	4	5	6	7	8	9
1									
2									
3									
4									
5									
6									
7									
8									
9									

4- Calcule o perímetro das seguintes figuras:



5- Tia Maria pagou 575 reais por uma calça. Vai pagá-la em cinco prestações iguais. Qual será o valor de cada prestação?

Operação

Resposta
